

0 kaartoefening zonder atlas

Plak hier
je etiket
met je
inschrijvings-
nummer

0.1 World Heritage, UNESCO

Werelderfgoed is cultureel en natuurlijk erfgoed dat onvervangbaar en uniek is en beschouwd moet worden als eigendom van de hele wereld. Het gaat hier om monumenten, gebouwencomplexen en landschappen. Het is van groot belang dat dit erfgoed behouden blijft. Vandaar dat de commissie voor het Werelderfgoed is opgericht. Deze commissie is een onderdeel van de UNESCO, de organisatie van de Verenigde Naties voor onderwijs, wetenschappen en cultuur.

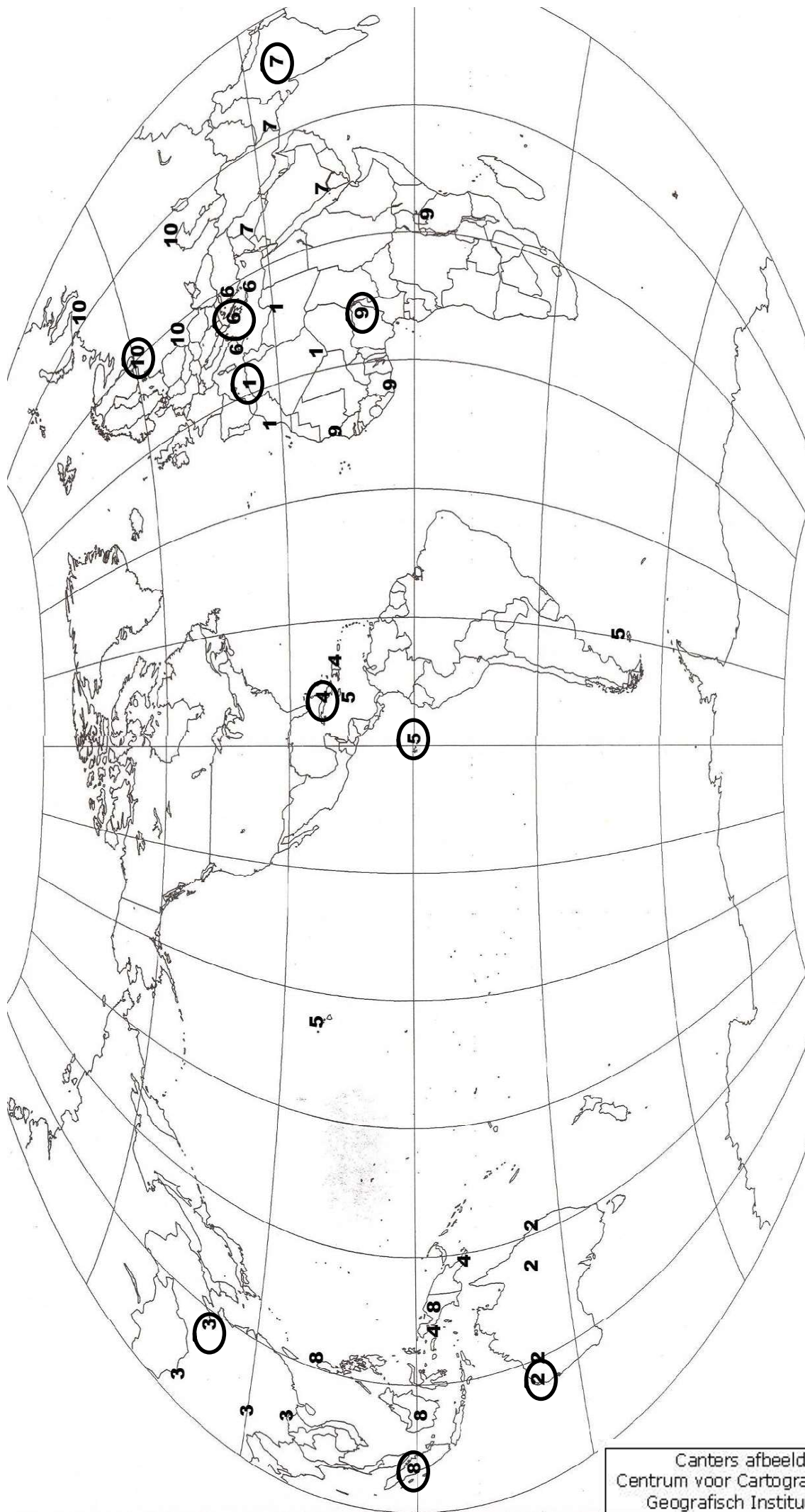
In de onderstaande lijst staan 10 van de 812 culturele of natuurlijke landschappen of monumenten die op de lijst van het Werelderfgoed voorkomen. De voorbeelden zijn verspreid over de hele wereld.

1. Kasbash of Algiers (1992)
2. Shark Bay, Western Australia (1991)
3. Summer Palace, an Imperial Garden in Beijing (1998)
4. Archaeological Landscape of the first coffee Plantations in de Southeast of Cuba (2000)
5. Galapagos Islands (1978)
6. Archaeological Site of Delphi (1987)
7. Tai Mahal (Uttar Pradesh) (1983)
8. Tropical Rainforest Heritage of Sumatra (2004)
9. Sukur Cultural Landscape in Nigeria (1999)
10. Historic centre of Saint-Petersburg (1990)

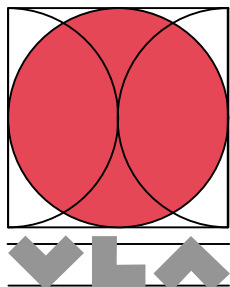
Op de wereldkaart, op de achterkant, is het nummer van ieder erkend monument/landschap viermaal aangeduid. Omcirkel telkens de juiste locatie van ieder item.

(10 punten)

Als je deze vragen beantwoord hebt, geef je dit blad af en kan je aan de vragenlijst met atlas beginnen. Vergeet niet je volgnummer te vermelden op de voorkant van dit blad!



Canters afbeelding
 Centrum voor Cartografie en GIS
 Geografisch Instituut VUB



Antwoordenbundel

Elfde Vlaamse GEO-olympiade
woensdag 22 februari 2006

Plak hier
je etiket
met je
inschrijvings-
nummer

1 Škocjanske Jame Park, Slovenië

- 1.1 Drie foto's zijn in het Škocjanske Jame Park getrokken, één van de foto's **niet!**
Welke foto? Geef het nummer van deze foto.

Antwoord: **1**

- 1.2 Plaats de drie foto's (te kiezen uit 1 – 2 – 3 – 4), die wel in het park zijn genomen,
bij de overeenstemmende plaats (X, Y of Z) op de doorsnede.

plaats **X** : foto **2**

plaats **Y** : foto **4**

plaats **Z** : foto **3**

- 1.3 Het landschap rond Škocjanske Jame is een gevolg van:

Antwoord: **3**

2 Stonehenge, Avebury, Engeland

- 2.1 Welke uitspraak is in dat geval correct voor de persoon in het centrum van deze
figuur?

Antwoord: **3**

- 2.2 Het grondplan van Stonehenge, met *dezelfde hoeken*

Antwoord: **3**

3 Potosí, Bolivia

- 3.1 De mijnwerkers werken zelfs vandaag nog met primitieve middelen alleen of in kleine
groepjes. Waarom?

Antwoord: **4**

4 *Serengeti National Park, Tanzania*

4.1 De beste maanden om dit fenomeen te zien zijn:

Antwoord: **2**

5 *Kanaal, verbinding tussen twee zeeën, Frankrijk*

5.1 Welke naam heeft dit kanaal?

Antwoord: **4**

5.2 Het kanaal ... In welke combinatie zijn alle redenen juist?

Antwoord: **3**

5.3 Het kanaal is bijna volledig afgeboord met bomen. Welke stelling is juist?

Antwoord: **4**

5.4 In de streek spreken de mensen over het 'kanaal ...'.

Antwoord: **2**

6 *Monumenten en bouwwerken*

6.1 Vul de tabel in maak de juiste combinaties van foto A, B, C en D.

Land	Werelderfgoed (1 tot 4)	Gesteente (5 tot 8)	Foto (A tot D)
België	1	6	D
Indië	4	5	A
Indonesië	2	8	C
VS	3	7	B

7 *Fjorden, Noorwegen*

7.1 In Noorwegen zijn twee fjorden, de Geiranger- en de Nærøyfjord

Antwoord: **3**

8 *Los Glaciares, Patagonië, Argentinië*

8.1 Vanaf welke plaats (A, B, C, D) is deze foto genomen?

Antwoord: **3**

8.2 Hoe komt het dat het waterpeil van het Brazo Rico en Brazo Sur ..

Antwoord: **3**

9 *Victoriawatervallen op Zambesi, Zambia / Zimbabwe*

9.1 Welk van onderstaande antwoorden geeft de meest volledige verklaring voor het ontstaan van het kloofdal van de Zambesi?

Antwoord: **4**

9.2 Op een foto met een globaal
Welke letter markeert het best de linkerdoorsnede aan en welke letter de rechterdoorsnede?

doorsnede linksonder: Antwoord: **B**

doorsnede rechtsboven: Antwoord: **Z**

10 *Lake Turkana NP, Noord-Kenia*

10.1 Het Turkana- of Rudolfmeer is ontstaan door

Antwoord: **2**

11 *Mesa Verde NP, Colorado, USA*

11.1 Welke schets is de juiste ? (A, B, C, D)

Antwoord: **B**

12 *De Grote Muur, China*

12.1 De honderden kilometers lange Grote Chinese muur ..

Antwoord: **1**

13 *Yellowstone NP, Wyoming, USA*

13.1 In welke richting heeft de Amerikaanse plaat zich ... ?

Antwoord: **4**

14 *Natuurlijke wildernis, Tasmanië, Australië*

14.1 Welk rivierstelsel hebben we tussen X en Y in het blokdiagram? Geef A, B, C of D.

Antwoord: **A**

14.2 Welke stuk van de rivier loopt volgens de as van de anticline in het blokdiagram?

Antwoord: **1**

14.3 Trek op de kaart rivierstelsels in Tasmanië een cirkel ...

Antwoord: **A**

14.4 Trek op de kaart rivierstelsels in Tasmanië een cirkel ..

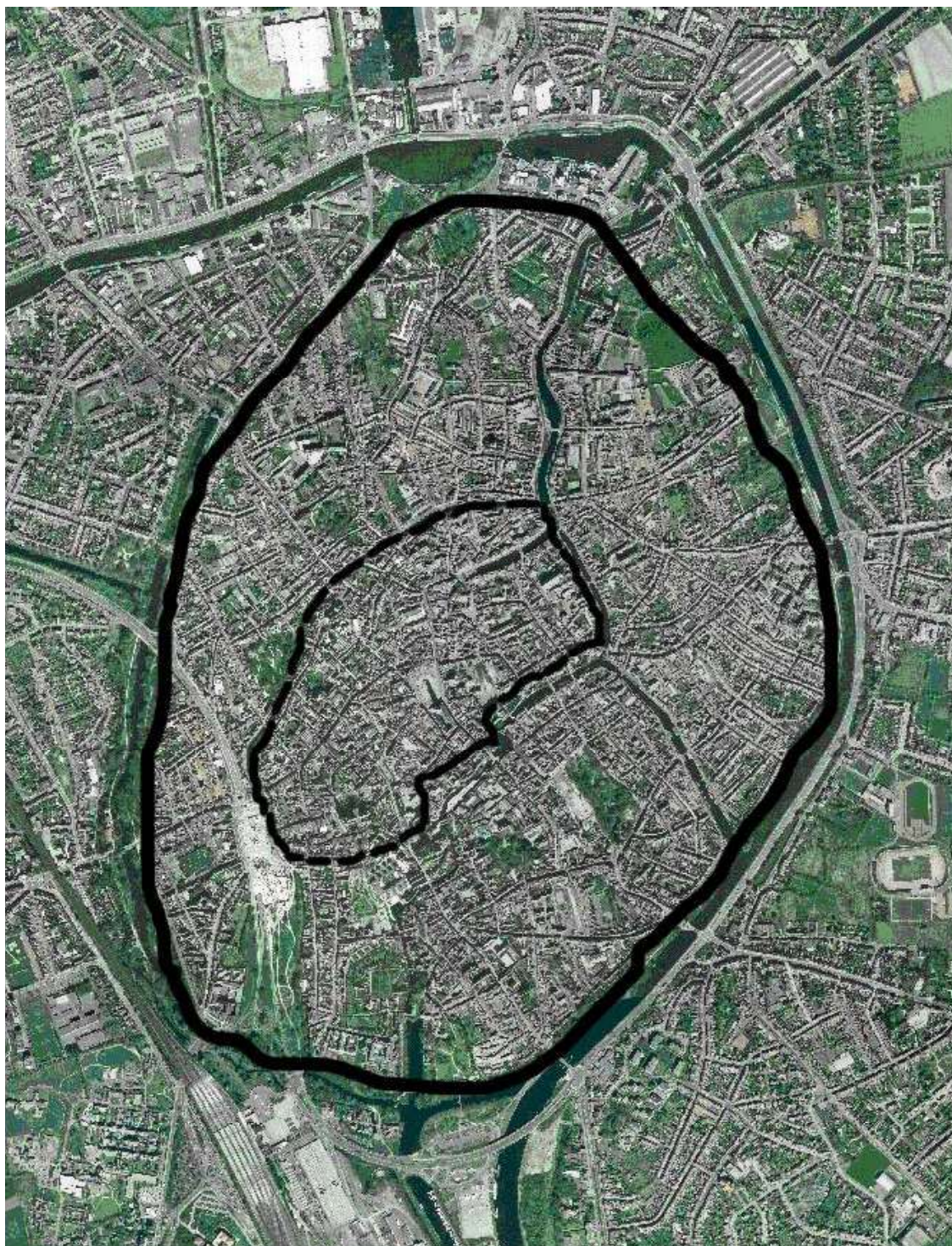
Antwoord: **C**

15 *Machu Picchu, Peru*

15.1 Welke van deze maatregelen werd voorgesteld?

Antwoord: **3**

16 Brugge, België



16.1 Duid de respectieve omwallingen aan op bijgaand orthofotoplan.

1. Streeplijn voor omwalling van 1127
2. Volle lijn voor omwalling van 1300

(4 punten)

- 16.2 Bestudeer het actueel orthofotoplan
Welke ruimtelijke structuur benadert de Brugse binnenstad het dichtst?

Antwoord: **1**

- 16.3 Bepaal het site van de stad Brugge. Het oude centrum werd gevestigd

Antwoord: **2**